

Je fais le point

Nom Prénom Date

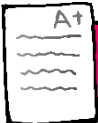
<http://laclasselleve.fr/>

Les nombres décimaux Lire et écrire

Exercice n° 1

Ecris les nombres décimaux qui te sont dictés.

<u> A </u>	<u> B </u>	<u> C </u>	<u> D </u>	<u> E </u>
<u> F </u>	<u> G </u>	<u> H </u>	<u> I </u>	<u> J </u>



Ecris des nombres décimaux sous la dictée.

Évaluation

Exercice n° 2

Entoure la partie entière et souligne la partie décimale.

3,2	15,691	4,58		
467,5	700	9 452,33	1,584	67,9

A+

Distinguer les deux parties constitutives d'un nombre décimal



/8

Exercice n° 3

Récris ces nombres en supprimant les zéros inutiles (s'il y en a).

7,60



2,09



914,100



10,35



30,60



405,000



0,800



68,010



50,06



A+

Repérer et supprimer les zéros inutiles dans un décimal



/9

Exercice n° 4

Ecris en lettres. Observe l'exemple.

3,45 = trois unités et quarante-cinq centièmes

a) 3,64 ⇒ _____

b) 85,7 ⇒ _____

c) 457,962 ⇒ _____

d) 20,08 ⇒ _____

e) 1 495,3 ⇒ _____

f) 62,006 ⇒ _____

g) 942,80 ⇒ _____

h) 0,09 ⇒ _____

i) 1,872 ⇒ _____

j) 7,5 ⇒ _____

A+

Ecrire des nombres décimaux en lettres



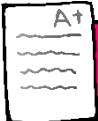
/20



Exercice n° 5

Écris sous la forme d'un nombre décimal.

- a) 3 unités et 2 dixièmes \Rightarrow _____
- b) 9 unités et 7 centièmes \Rightarrow _____
- c) 28 unités et 6 millièmes \Rightarrow _____
- d) 7 dizaines, 5 unités et 9 dixièmes \Rightarrow _____
- e) 4 centaines et 5 centièmes \Rightarrow _____
- f) 164 unités et 3 dixièmes \Rightarrow _____
- g) 3 millièmes \Rightarrow _____
- h) 9 dixièmes, 1 centième et 4 millièmes \Rightarrow _____
- i) 425 centièmes \Rightarrow _____
- j) 6 dizaines et 2 dixièmes \Rightarrow _____



Écrire des nombres décimaux en chiffres.



/ 10

Évaluation



Exercice n° 6

Que représente le chiffre 7 dans chacun de ces nombres ?

5,7 \Rightarrow _____

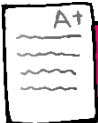
67,3 \Rightarrow _____

709,12 \Rightarrow _____

1,847 \Rightarrow _____

7 641,6 \Rightarrow _____

0,37 \Rightarrow _____



Connaitre la valeur des chiffres dans un nombre décimal.



/ 6

Évaluation